



کد محصول
ES526



آخرین بروزرسانی
۳۱ آذر ۱۴۰۴

سوالات استخدامی

جهد دانشگاهی

- ✓ اصل سوالات آزمون های استخدامی ادوار گذشته جهد دانشگاهی (مجری آزمون)
- ✓ نسخه رایگان شامل ۲۶۶ سوال (تعداد کمتر و تنها برخی دارای پاسخ)
- ✓ برای تهیه نسخه اصلی، با ۱۰۵۹ سوال به همراه پاسخنامه تشریحی، به سایت ایران عرضه مراجعه نمایید.



لینک های مفید آزمون استخدامی جهاد دانشگاهی

خرید این محصول	خرید درسنامه عمومی
خرید سوالات استخدامی ۱۰ سال اخیر	خرید درسنامه مصاحبه
خرید سوالات مصاحبه	شبکه های اجتماعی ایران عرضه (فایل های رایگان + تخفیفات هفتگی + اخبار)

(برای مشاهده هر بخش روی آن بزنید )

آخرین بروزرسانی های محصول:

۱۴۰۴/۰۹/۱۳ اضافه شدن فصل های جدید (اصل سوالات آتش نشانی سال های ۱۳۹۸ و ۱۴۰۳)

۱۴۰۴/۰۹/۱۰ اضافه شدن فصل هشتم (اصل سوالات فراگیر شهریور ۱۴۰۴)

۱۴۰۳/۱۱/۱۱ اضافه شدن فصل هفتم (سوالات آزمون فراگیر دوازدهم ۱۴۰۳)

فهرست مطالب

❖ فصل اول: اصل سوالات آزمون استخدامی سازمان تامین اجتماعی فروردین ۱۴۰۳ - صفحه ۴ (۹۰)

(سوال)

فناوری اطلاعات مهارت های هفتگانه (ICDL) - معارف اسلامی - زبان و ادبیات فارسی - ریاضی و آمار مقدماتی - اطلاعات عمومی، دانش اجتماعی و حقوق اساسی - زبان انگلیسی عمومی - هوش و استعداد تحصیلی - شناخت تامین اجتماعی

❖ فصل دوم: اصل سوالات دوازدهمین آزمون استخدامی فراگیر دستگاه های اجرایی آذر ۱۴۰۳ -

صفحه ۱۶ (۷۶ سوال)

تسلط بر مبانی اسلامی - انقلابی - آشنایی با اسناد و قوانین بالا دستی - ادبیات فارسی - زبان انگلیسی - هوش و توانمندی های ذهنی - فناوری اطلاعات

❖ فصل سوم: اصل سوالات سیزدهمین آزمون استخدامی فراگیر دستگاه های اجرایی شهریور ۱۴۰۴

(مشترک با آزمون وزارت بهداشت) - صفحه ۲۷ (۱۰۰ سوال)

معارف اسلامی - زبان و ادبیات فارسی - اطلاعات عمومی و دانش اجتماعی - قوانین و مقررات اداری و قانون اساسی - ریاضی و آمار مقدماتی - توانمندی های ذهنی و ویژگی های رفتاری - زبان خارجه - فناوری اطلاعات

در هر بخش، تنها ۱ سوال ابتدایی دارای پاسخنامه تشریحی می باشد. در صورت تمایل به دریافت سوالات بیشتر با جواب تشریحی می توانید این محصول را از سایت ایران عرضه خریداری نمایید.

خرید محصول

❖ فصل اول: اصل سوالات آزمون استخدامی سازمان تامین اجتماعی فروردین

۱۴۰۳

◀ فناوری اطلاعات مهارت های هفت گانه (ICDL)

۱- کدام یک از ترکیب کلیدهای زیر، اولین کلمه بعد از مکان نما را در نرم افزار word پاک می کند؟

Ctrl + Shift + Back Space (۲)

Ctrl + Shift + Del (۱)

Ctrl + Back Space (۴)

Ctrl + Del (۳)

❑ پاسخ سایت ایران عرضه: گزینه ۳ ➡ در اکثر نرم افزار های واژه پرداز، کلید Backspace برای پاک کردن قبل از مکان نما و کلید Delete برای پاک کردن مواردی که بعد از مکان نما هستند به کار میرود، همچنین برای پیمایش کلمه به کلمه در نرم افزار ورد میتوان از کلید Ctrl استفاده کرد. لذا برای پاک کردن کلمه ای که بعد از مکان نما قرار دارد از کلید ترکیبی Ctrl + DEL استفاده میکنیم.

۲- ترکیب کلیدهای Ctrl + y یا Redo چه عملی را در نرم افزار word انجام می دهد؟


(۲) لغو آخرین عملیات انجام شده

(۱) باز گرداندن آخرین عملیات لغو شده

(۴) کپی گرفتن از بخش انتخاب شده متن

(۳) Paste کردن اطلاعات کپی گرفته شده

۳- در نرم افزار word، برای تنظیم حاشیه های یک صفحه، از کدام بخش رو به رو استفاده میشود؟



(۱) بخش ۱

(۲) بخش ۳

(۳) بخش ۴

(۴) بخش ۶

۴- گزینه Save As در منوی نرم افزار word چه کاری انجام می دهد؟

(۱) ذخیره اتوماتیک فایل

(۲) ذخیره کردن فایلی که تاکنون روی حافظه سیستم ذخیره نشده است

(۳) ذخیره کردن فایلی که باز است با نام دیگر روی حافظه سیستم

(۴) باز کردن فایل مورد نظر در word

۵- برای انتخاب متوالی آیکن ها در ویندوز، هنگام کلیک کردن چه کلیدی را پایین نگه میداریم؟

Alt (۱) Ctrl (۲) Shift (۳) Tab (۴)

۶- بخش freeze Panes در نرم افزار excel چه کاری را انجام می دهد؟

(۱) ثابت نگه داشتن طول یا عرض ستون ها یا ردیف های انتخاب شده

(۲) ثابت نگه داشتن محتویات ستون ها یا ردیف های انتخاب شده

(۳) ثابت نگه داشتن نمایش ستون ها یا ردیف های انتخاب شده با پیمایش طولی و عرضی در فایل اکسل


(۴) ثابت نگه داشتن نوع اطلاعات ثبت شده در سلول

۷- اگر در نرم افزار excel، مکان نما در سلولی با آدرس C12 قرار داشته باشد، با زدن دکمه های Ctrl + Home مکان نما به

کدام سلول زیر منتقل می شود؟

Al (۱) C1 (۲) A12 (۳) اولین سلول دارای محتوا در ستون C (۴)

۸- در تصویر رو به رو، نحوه نمایش یک فایل پاورپوینت در منوی view آمده است. کدام گزینه برای جا به جایی و زمان بندی



Outline view (۲)

Normal (۱)

notes page (۴)

slide sorter (۳)

اسلایدها استفاده می شود؟

۹- کلیدهای ترکیبی Ctrl + M در پاورپوینت چه عملی را انجام می دهد؟

(۱) ایجاد اسلاید جدید (۲) کپی ساختن از اسلاید انتخاب شده

(۳) ایجاد یک سند جدید پاورپوینت (۴) شروع نمایش اسلایدهای پاورپوینت

۱۰- تصویر رو به رو تنظیمات قلم را در نرم افزار power point نشان می دهد. اعمال زیر به ترتیب توسط کدام بخش نمایش

داده شده در تصویر، انجام می شود؟ «کوچک کردن اندازه قلم تغییر رنگ رقم فاصله اندازی بین کاراکترها»



(۱) بخش های ۱ و ۴ و ۲

(۲) بخش های ۲ و ۴ و ۵

(۳) بخش های ۱ و ۳ و ۵

(۴) بخش های ۲ و ۳ و ۱

(۱) تنظیم فونت متن انتخاب شده

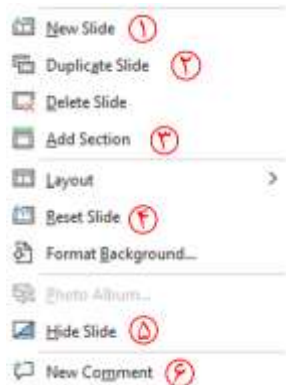
(۲) کوچکتر کردن اندازه متن انتخاب شده به اندازه یک واحد

(۳) زیرخط (underline) کردن متن انتخاب شده

(۴) تغییر فاصله میان کاراکتر های متن انتخاب شده

(۵) تغییر رنگ متن انتخاب شده

۱۱- اگر در نرم افزار power point، روی یک اسلاید با دکمه راست ماوس کلیک کنیم، منوی روبه رو نمایش داده می شود،



کدام گزینه اسلایدی مانند اسلاید انتخاب شده را به فایل ها اضافه خواهد کرد؟

(۱) گزینه ۱

(۲) گزینه ۲

(۳) گزینه ۴

(۴) گزینه ۵

۱۲- اصطلاح attachment در هنگام کار کردن با سایت های مربوط به پست الکترونیک، به چه معناست؟

(۱) پاسخ دادن به ایمیل های دریافت شده (۲) پیش نویس ایمیلی هایی که قرار است ارسال شود

(۳) ضمیمه کردن فایل به ایمیل (۴) ارسال یک ایمیل به صورت هم زمان به چند نفر

۱۳- کدام یک از گزینه های زیر، یک مرورگر اینترنتی است؟

(۱) photoshop (۲) Microsoft office (۳) Microsoft edge (۴) hyperlink

۱۴- home page در مرورگرهای اینترنتی چیست؟

(۱) صفحه سایت اصلی تولید کننده مرورگر

(۲) اولین صفحه ای که کاربر در مرورگر آن را مشاهده کرده است

(۳) اولین صفحه ای که هر وقت مرورگر فعال می شود، نمایش داده می شود

(۴) صفحه اصلی سایت گوگل

۱۵- پیش فرض نام فایل در برنامه اکسس چیست؟

(۱) Document (۲) Book (۳) Db1 (۴) هیچ کدام

۱۶- وقتی در نرم افزار ورد تصویری را انتخاب کرده ایم با کدام گزینه می توانیم بخشی از آن تصویر را برش بزنیم؟

(۱) Size (۲) Crop (۳) Color (۴) Corrections

۱۷- در نرم افزار اکسل، فرمول رو به رو چه عملی را انجام می دهد؟

SUM (A1:C5)

(۱) مجموع دو سلول A1 و C5

(۲) میانگین دو سلول A1 و C5

(۳) مجموع سلول های موجود بین دو سلول A1 و C5

(۴) میانگین سلول های موجود بین دو سلول A1 و C5

۱۸- کدام یک از توابع زیر در نرم افزار اکسل، مربوط به شمارش سلول های انتخاب شده و دارای یک شرط خاص است؟

count (۱) counta (۲) count blank (۳) countif (۴)

۱۹- در نرم افزار اکسل، محل یا نشانی یک سلول از چه اجزایی تشکیل شده است؟

(۱) نام ستون + نام سطر (۲) نام ستون + شماره ردیف سطر

(۳) نام سطر + نام ستون (۴) نام سطر + شماره ردیف ستون

۲۰- کدام بخش از URL، معمولاً نشان دهنده زمینه فعالیت سایت می باشد؟

(۱) پروتکل (۲) نام سرویس دهنده (۳) نام ثبت شده (۴) دامنه

۲۱- با کدام یک از ترکیب کلیدهای زیر در نرم افزار ورد، مکان نما به ابتدای پاراگراف بعدی میرود؟

(۱) Ctrl + Shift + ↑ (۲) Ctrl + ↑ (۳) Ctrl + ↓ (۴) Shift + ↓

معارف اسلامی

۲۲- بر اساس نظر حضرت آیت الله خامنه ای کدام گزینه صحیح نمی باشد؟

(۱) هدف ها و آرمان ها در تشکیل شخصیت آدمی موثر است

(۲) نفس انسان یکی از عوامل مهم اثر گذار بر رفتار انسان است

(۳) جهان بینی هر انسانی در تشکیل شخصیت او تاثیر چندانی ندارد

(۴) فردگرایی یکی از عوامل تعارض و تفرقه در جامعه می باشد

۲۳- حاکم واقعی در جامعه اسلامی می باشد.

(۱) رهبر اسلامی (۲) خدا (۳) امامان (۴) پیامبران

۲۴- ایران عرضه! اساسی ترین مسئله دین کدام گزینه زیر میباشد؟

(۱) توحید (۲) معاد (۳) ولایت (۴) عدالت

۲۵- خدای متعال در قرآن کریم خطاب به کدام پیامبر فرمودند تو را برای مردم قرار داده ایم؟

(۱) حضرت محمد (ص) (۲) حضرت موسی (۳) حضرت نوح (۴) حضرت ابراهیم

۲۶- این نکته که "اگر حاکم به فکر کام جویی، قدرت طلبی و حفظ مقام باشد ضمانت لازم برای سلامت نظام باقی نخواهد ماند" به کدام یک از شرایط رهبری جامعه اشاره دارد؟

(۱) عالم بودن (۲) عادل بودن (۳) فقیه بودن (۴) مجتهد بودن

۲۷- روزی که در آن باطن ها آشکار میشود و حقایق بسته باز میشود روز است.

(۱) نشور (۲) قیامت (۳) یوم الدین (۴) روز جزا

۲۸- یکی از آثار وضعی گناه میباشد.

(۱) سرگشتگی و گمراهی (۲) مکافات دنیوی

(۳) غضب الهی (۴) خسران ابدی

۲۹- در مورد تقسیم بندی موضوعات اخلاقی کدام دسته صحیح است؟

- (۱) اخلاق فردی، اخلاق اجتماعی، اخلاق الهی، اخلاق محیط زیست
- (۲) اخلاق فردی، اخلاق اجتماعی، اخلاق الهی، اخلاق دینی
- (۳) اخلاق فردی، اخلاق اجتماعی، اخلاق بندگی، اخلاق محیط زیست
- (۴) اخلاق فردی، اخلاق اجتماعی، اخلاق بندگی، اخلاق دینی

زبان و ادبیات فارسی

۳۰- در این بیت چه صنعت بدیعی دیده می شود؟

«شود کوه آهن چو دریای آب اگر بشنود نام افراسیاب»

- (۱) اغراق (۲) ایهام (۳) التفات (۴) تلمیح

۳۱- شاهنامه فردوسی در کدام قالب شعری سروده شده است؟

- (۱) قطعه (۲) قصیده (۳) ترکیب بند (۴) مثنوی

۳۲- کدام یک وزن مثنوی معنوی است؟

- (۱) فعولن فعولن فعولن فعل
- (۲) مستفعلن فاعلن مستفعلن فاعلن
- (۳) فاعلاتن فاعلاتن فاعلن
- (۴) فاعلاتن مفاعلهن فاعلن

۳۳- همه آثار زیر متعلق به جامی هستند، به جز:

- (۱) رساله دلگشا (۲) نفحات الانس (۳) تحفه الاحرار (۴) بهارستان

۳۴- در کدام گزینه «موضوع بی اعتباری دنیا» مشهود است؟

- (۱) ده روز مهر گردون افسانه است و افسون
 - (۲) این قافله بر قافله پویان سوی آن مرحله
 - (۳) نومید شو ز هر که توانی و هر چه هست
 - (۴) کی رسد آشفتگی از روزگار بو العجب
- نیکی به جای یاران فرصت شمار یارا
چون بر نمی گردد سرت چون دل نمی جوشد تو را
که امیدهای باطل ما را شمار نیست
آن چه از چشمت بدین آشفته کاران می رسد

۳۵- در کدام گزینه «کنایه» به کار رفته است؟

- (۱) بزد تیر بر چشم اسفندیار *** سیه شد جهان پیش آن نامدار
- (۲) تهمتن گز اندر کمان راند زود *** بران سان که سیمرغ فرموده بود
- (۳) ترا گر همی یار باید بیار *** مرا یار هرگز نیاید به کار
- (۴) بفرمود تا زین بر اسپ سیاه *** نهادند و بردند نزدیک شاه

۳۶- مفهوم کلی بیت زیر با کدام بیت تناسب دارد؟

« موی سپید را فلکم رایگان نداد این رشته را به نقد جوانی خریده ام »

- (۱) چگونه پیر جوانی و جاهلی نکند
(۲) برف پیری می نشیند بر سرم
(۳) قدح پر کن که من در دولت عشق
(۴) سال ها با بار پیری خم شدم در جستجوییش تا به چاه گور هم رفتم نشد پیدا جوانی

۳۷- در کدام گزینه اثری منسوب به محمد تقی بهار آمده است؟

- (۱) ایده آل
(۲) گنجینه نشاط
(۳) تاریخ تطور در شعر فارسی
(۴) خداوند نامه

۳۸- مهم ترین قالب نثر دوره معاصر کدام است؟

- (۱) نثر داستانی
(۲) ادبیات نمایشی
(۳) سفر نامه
(۴) مقاله

۳۹- در بیت زیر کدام آرایه به کار رفته است؟

- «طاووس این بهارم، ساغر کش خمارم در راه انتظارم صد چشم و یک بریدن»
(۱) سجع
(۲) تلمیح
(۳) تشبیه
(۴) تضمین

۴۰- در کدام بیت «اغراق» به کار رفته است؟

- (۱) دل و کشورت جمع و معمور باد
(۲) گر برگ گل سرخ کنی پیرهنش را
(۳) بگویم تا بداند دشمن و دوست
(۴) «صائب» مدد خلق نمودیم به همت
ز ملک پراکندگی دور باد
از تازگی آزار رساند بدنش را
که من مستی و مستوری ندانم
در ظاهر اگر مالک دینار نبودیم

۴۱- در کدام گزینه به مفهوم «تاثیر گذاری زنان» اشاره نشده است؟

- (۱) به کار علم و عفت کوش امروز
(۲) من این را یافتم از شاه و درویش
(۳) همیشه دختر امروز مادر فرداست
(۴) اگر فلاطن و سقراط بوده اند بزرگ
که مام مردم فردایی ای زن
که زن آسان بر آید با کم و بیش
ز مادر است میسر بزرگی پسران
بزرگ بوده پرستار خردی ایشان

ریاضی و آمار مقدماتی

۴۲- اگر $A = \{1, 3, 4, 7\}$ و $B = \{3, 7, 9\}$ باشد آنگاه حاصل $(A - B) \cup (B - A)$ عبارت است از:

- (۱) $\{1, 3, 9\}$
(۲) $\{1, 4, 7\}$
(۳) $\{3, 4, 7\}$
(۴) $\{1, 4, 9\}$

۴۳- اگر $x = 1 + \sqrt{2}$ و $y = -1 + \sqrt{2}$ باشد، حاصل عبارت $\frac{xy^3 + x^3y - 2x^2y^2}{x^3y - xy^3}$ کدام است؟

- (۱) $-2\sqrt{2}$
(۲) $\frac{\sqrt{2}}{2}$
(۳) $-\frac{\sqrt{2}}{2}$
(۴) $2\sqrt{2}$

۴۴- در تجزیه ی عبارت $x^2 - (x^2 - 20)^2$ کدام عامل ضرب زیر وجود ندارد؟ (متعلق به سایت ایران عرضه)

- (۱) $x-5$ (۲) $x+4$ (۳) $x-1$ (۴) $x+5$

۴۵- حاصل عبارت گویای $\frac{2x}{2x+1} + \frac{2}{2x-1} - \frac{2x+3}{4x^2-1}$ کدام است؟

- (۱) -1 (۲) -2 (۳) 1 (۴) 2

۴۶- اگر $f(x) = \sqrt{x^2 - 3}$ آن گاه $f(x) = \sqrt{x^2 - 3}$ برابر است با:

- (۱) $1 + \sqrt{5}$ (۲) $\sqrt{15} - 1$ (۳) $1 - \sqrt{15}$ (۴) $1 - 3\sqrt{5}$

۴۷- در تابع با ضابطه $f(x) = mx^2 + nx - 1$ اگر $f(1) = 6$ و $f(2) = 13$ مقدار n برابر است با:

- (۱) 6 (۲) 3 (۳) 7 (۴) 2

۴۸- میانگین ۸ داده آماری $16/5$ است. اگر دو داده ۱۸ و ۲۲ را از آن داده ها کنار بگذاریم، میانگین ۶ داده حاصل کدام

است؟

- (۱) $14/23$ (۲) $15/33$ (۳) $14/52$ (۴) $15/52$

۴۹- در جدول فراوانی مقابل، میانگین به صورت $\bar{x} = 11 + 2a$ محاسبه شده است. مقدار a کدام است؟

X	۷	۹	۱۱	۱۳	۱۵
F	۱	۴	۴	۹	۲

- (۱) $0/35$

- (۲) $0/46$

- (۳) $0/52$

- (۴) $0/64$

۵۰- اگر تمام داده ها را ۲ برابر کنیم مد و میانه داده های حاصل چگونه خواهند بود؟

- (۱) فقط مد تغییر می کند (۲) فقط میانه تغییر می کند

- (۳) هر دو تغییر می کند (۴) هیچ کدام تغییر می کند

۵۱- واریانس داده های آماری ۱۲، ۱۵، ۱۳، ۱۲، ۱۴، ۱۳، ۱۰ و ۱۵ کدام است؟

- (۱) $1/75$ (۲) $2/25$ (۳) $2/5$ (۴) 4

اطلاعات عمومی، دانش اجتماعی و حقوق اساسی

۵۲- طبق اصل قانون اساسی جمهوری اسلامی ایران:

«برخوداری از تأمین اجتماعی از نظر بازنشستگی، بیکاری، پیری، از کار افتادگی، بی سرپرستی، در راه ماندگی، حوادث و

سوانح، نیاز به خدمات بهداشتی درمانی و مراقبت های پزشکی به صورت بیمه و غیره حقی است همگانی»

- (۱) اصل ۲۹ (۲) اصل ۶۴ (۳) اصل ۲۷ (۴) اصل ۳۲

۵۳- شناخت و آگاهی هر فرد نسبت به جهان هستی، چه نام دارد؟

- (۱) ایدئولوژی (۲) اصول عقاید (۳) جهان بینی (۴) علم الاشياء

۵۴- کوچک ترین استان ایران از لحاظ وسعت کدام است؟

- (۱) البرز (۲) قزوین (۳) قم (۴) کهگیلویه و بویر احمد

۵۵- سوسیالیسم یعنی چه؟

- (۱) برابری اقشار مختلف جامعه در سود (۲) مالکیت مردم بر دارایی
(۳) اعتقاد به اصالت امور دنیوی (۴) اعتقاد به لزوم آداب و رسوم

۵۶- اعطای نشان دولتی به عهده کیست؟

- (۱) مقام معظم رهبری (۲) رئیس جمهور
(۳) مجلس شورای اسلامی (۴) شورای نگهبان

۵۷- دولت مکلف است برای افراد جامعه تحصیلات رایگان را تا چه زمانی فراهم کند؟

- (۱) پایان دوره متوسطه (۲) پایان دوره ابتدایی
(۳) پایان آموزش عالی (۴) هیچ کدام

۵۸- شیخ الاشراق لقب کدام یک از علمای زیر است؟

- (۱) ابوعلی سینا (۲) سهروردی
(۳) ابوریحان بیرونی (۴) خواجه نصیرالدین طوسی

۵۹- رسیدگی به تخلفات رئیس جمهور بر عهده کیست؟

- (۱) دیوان عدالت (۲) سازمان بازرسی اداری
(۳) شورای نگهبان (۴) دیوان عالی کشور

۶۰- روز تامین اجتماعی چه روزی است؟

- (۱) ۱۲ تیر (۲) ۵ تیر (۳) ۲۵ تیر (۴) ۲۲ تیر

زبان انگلیسی عمومی

Vocabulary

Choose the word or phrase) 1), 2), 3) or 4) that best completes the sentence

لغت

از بین گزینه های (۱)، (۲)، (۳) و (۴) گزینه مناسب را انتخاب کنید که هر جمله را به بهترین شکل تکمیل می کند.

61- I don't know how we are going to the expected surge of immigrants into the country.

- 1) run through 2) put out 3) cope with 4) take down

62- In Ethiopia, primitive farming practices of natural vegetation have transformed much of the country's highlands bare landscapes, but all destroyed erosion.

- 1) into / by 2) above / of 3) for / with 4) in / under

63- We have relatively gold and uranium on Earth only because many supernova explosions had occurred just before the solar system formed.

- 1) feeble 2) hinder 3) pedestrian 4) abundant

64- If you realize mid0 climb that your rock-climbing rope is frayed, you might be in

- 1) neck levs 2) peril 3) transparent 4) vandal

65- Her voice had become from shouting. Her last words were almost Inaudible.

- 1) hoarse 2) flexible 3) duplicate 4) comprehensive

Grammar

66- Tourists when large numbers of middle-class people to join the wealthier aristocratic travelers.

- 1) have originated / has begun 2) had originated / began
3) originated began 4) were originating / are beginning

67- As the tree was too high to climb, the mischievous boys their ball down only by throwing sticks at it.

- 1) could have knocked 2) will have to knock
3) would have knocked 4) were able to knock

68- Certain serious diseases can be successfully treated detected in an initial stage.

- 1) unless 2) even when 3) before 4) if

69- you have made minimal progress; it is by no means the kind of progress that you need to make

- 1) Despite 2) According 3) While 4) Considering

70- A combination of imagination and determination Peter entirely new lines of research concerned with the way animals survive extreme environmental conditions

- 1) have allowed / being developed 2) allowed / to develop
3) were allowed / to have developed 4) will allow / to be developing

هوش و استعداد شغلی

۷۱- در یک مستطیل همواره:

- (۱) دو ضلع مجاور با هم مساوی اند (۲) دو ضلع مجاور بر هم عمودند

۳) قطرهای بر هم عمودند ۴) قطرهای با هم زاویه ۴۵ درجه می سازند

۷۲- ۵ به $2\frac{3}{4}$ مانند ۲۰ است به:

۱) $8\frac{3}{4}$ ۲) ۱۱ ۳) $13\frac{3}{4}$ ۴) ۱۵

۷۳- در یک کلاس دو سوم دانشجویان انگلیسی می دانند، دو سوم همین کلاس فرانسه می دانند، علی دانشجوی این کلاس است، او

۱) قطعاً انگلیسی و فرانسه را با هم نمی داند. ۲) ممکن است انگلیسی و فرانسه را با هم بداند.

۳) حتماً فرانسه می داند. ۴) حتماً انگلیسی می داند.

۷۴- قطاری ۲۰ متر را در $\frac{1}{5}$ ثانیه طی میکند، با همین سرعت چند متر را در ۳ ثانیه طی می کند؟

۱) ۲۰۰ ۲) ۲۵۰ ۳) ۳۰۰ ۴) ۳۵۰

۷۵- رابطه مقابل را کدام یک از گزینه ها تکمیل می کند؟ نسبت «زمان» به «جوان» مثل نسبت ۵۳۳۲ است به

۱) ۲۵۲۳ ۲) ۳۲۵۲ ۳) ۳۱۳۲ ۴) ۳۲۲۵

۷۶- به جای علامت سؤال چه عددی را باید نوشت؟

؟ ، ۴ ، ۳۲ ، ۸ ، ۳۳ ، ۱۱ ، ۲۶ ، ۱۳

۱) ۱۶ ۲) ۱۲ ۳) ۲۰ ۴) ۸

۷۷- در یک زبان ناشناخته، «سافل گیمر بیمون» یعنی «خانه بزرگ آجری» و «گیمر شاسیل» یعنی «دیوار آجری» و

«فراسی سافل» یعنی «خانه درختی». در این زبان به «بزرگ» چه می گویند؟

۱) سافل ۲) گیمر ۳) شاسیل ۴) بیمون

۷۸- «اهالی پایین دره دردرس ساز اند» همین معنا را می دهد که:

۱) افراد دردرس ساز نیستند، مگر این که از اهالی پایین دره باشند.

۲) اگر که فردی از اهالی پایین دره باشد، پس آن فرد دردرس ساز است.

۳) حداقل یک فرد وجود دارد که اهل پایین دره است و درد سر ساز است.

۴) اگر فردی دردرس ساز باشد، پس آن فرد از اهالی پایین دره است.

۷۹- در سرشماری از ۱۰۰۰ خانواده معلوم شد ۷۰۰ مورد از آنها دارای تلفن و ۵۰۰ مورد از آنها فاقد اتومبیل هستند و هیچ

خانواده ای نبود که حداقل یکی از این دو وسیله را نداشته باشد، چند نفر از خانواده هایی که فاقد تلفن هستند دارای اتومبیل می باشند؟

۱) ۲۰۰ ۲) ۳۰۰ ۳) ۴۰۰ ۴) ۵۰۰

۸۰- اگر فروشنده ای ابتدا قیمت جنسی را ۴۰ درصد افزایش داده و سپس با ۳۰ درصد تخفیف آن را بفروشد، در نتیجه او جنس خود را:

(۲) گران تر از قیمت اولیه فروخته است

(۱) به همان قیمت اولیه فروخته است

(۴) اطلاعات مساله کافی نیست.

(۳) ارزان تر از قیمت اولیه فروخته است

شناخت تأمین اجتماعی

۸۱- کدام جمله صحیح است؟

(۱) سازمان تامین اجتماعی بر اساس قانون یک نهاد عمومی دولتی است که منابع مالی آن از محل حق بیمه ها با مشارکت کارفرما و بیمه شده تامین می گردد.

(۲) سازمان تامین اجتماعی متکی به دولت نیست ولی قابلیت ادغام بادیگر سازمان های حمایتی دولتی یا غیر دولتی را دارد.

(۳) سازمان تامین اجتماعی بر اساس قانون یک نهاد عمومی غیر دولتی است که عمده منابع مالی آن از محل حق بیمه ها با مشارکت کارفرما و بیمه شده تامین می گردد.

(۴) تکیه گاه اصلی سازمان مشارکت دو جانبه کارفرمایان و بیمه شدگان می باشند.

۸۲- کدام قانون تنظیم کننده روابط کار و تضمین کننده حقوق کارفرما و کارگر است؟

(۱) قانون کار (۲) قانون تامین اجتماعی

(۳) قانون تجارت (۴) قانون بیمه بیکاری

۸۳- بزرگترین نماینده بیمه کشور می باشد.

(۱) صندوق تامین اجتماعی نیروهای مسلح (۲) صندوق بیمه اجتماعی روستائیان و عشایر

(۳) صندوق بازنشستگی کشور (۴) صندوق تامین اجتماعی

۸۴- قانون بازنشستگی پیش از موعد در چه سالی به تصویب رسیده است؟

(۱) ۱۳۶۵ (۲) ۱۳۶۶ (۳) ۱۳۶۷ (۴) ۱۳۶۸

۸۵- هیئت امنای سازمان تامین اجتماعی چند نفر بوده و چند نفر از آنها با پیشنهاد وزیر تعاون، کار و رفاه اجتماعی و تصویب شورای عالی رفاه تامین اجتماعی تعیین می شوند؟

(۱) ۹ نفر ۶ نفر (۲) ۷ نفر ۵ نفر (۳) ۱۱ نفر ۷ نفر (۴) ۹ نفر ۵ نفر

۸۶- کدام یک از ادارات کل، زیر مجموعه معاونت اقتصادی و سرمایه گذاری نمی باشد؟

(۱) اداره کل نظارت بر امور شوراها (۲) اداره کل امور مجلس و دولت

(۳) اداره کل ذخایر، سرمایه گذاری املاک (۴) اداره کل امور مجامع و شرکت ها

۸۷- ادارات کل معاونت بیمه ای عبارت اند از:

(۱) اداره کل مستمری ها اداره کل امور بیمه شدگان اداره کل حقوقی و قوانین اداره کل نام نویسی و حسابهای انفرادی

(۲) اداره کل مستمری ها اداره کل امور بیمه شدگان اداره کل حقوقی و قوانین اداره کل امور بین المللی

(۳) اداره کل مستمری ها اداره کل امور بیمه شدگان اداره کل وصول حق بیمه اداره کل حقوقی و قوانین

(۴) اداره کل مستمری ها اداره کل امور بیمه شدگان اداره کل وصول حق بیمه اداره کل نام نویسی و حسابهای انفرادی

۸۸- راهبری فعالیت های نظارتی و ارزشیابی واحدهای اجرایی تابعه از دو بعد مدیریتی عملیاتی از وظایف کدام یک از

معاونتهای سازمان تامین اجتماعی می باشد؟

(۱) معاونت برنامه ریزی مالی و پشتیبانی (۲) معاونت فرهنگی اجتماعی و امور استان ها

(۳) معاونت توسعه مدیریت و منابع انسانی (۴) معاونت بیمه ای

۸۹- اگر در اثر حادثه ناشی از کار یا بیماری حرفه ای از کار افتادگی کلی شناخته شود شرایط دریافت مستمری چگونه است؟

(۱) بدون در نظر گرفتن مدت حق بیمه، استحقاق دریافت مستمری را خواهد داشت.

(۲) بیمه شده حداقل ظرف ده سال قبل از وقوع حادثه، سابقه پرداخت یک سال بیمه را داشته باشد.

(۳) بیمه شده حداقل طی یک سال منتهی به حادثه حداقل ۹۰ روز حق بیمه پرداخت کرده باشد.

(۴) مجموعه سنوات بیمه ای پرداخت شده تا روز حادثه حداقل ۲۳ ماه باشد.

۹۰- کدام دسته مشمول دریافت عیدی می شوند؟

(۱) مستمری بگیران بازنشسته

(۲) مستمری بگیران از کار افتاده کلی و بازماندگان

(۳) مستمری بگیران باز مانده زن که دارای حداقل یک فرزند باشند

(۴) موارد ۱ و ۲

❖ فصل دوم: اصل سوالات دوازدهمین آزمون استخدامی فراگیر دستگاه های

اجرائی آذر ۱۴۰۳

◀ تسلط بر مبانی اسلامی - انقلابی

۱- مسئولیت اصلی رسالت انبیاء بعد از بهشت چیست؟

(۱) با حدیث گفتن می کوشند تا در متن زندگی انسان ها رستاخیز و تحول ایجاد نمایند

(۲) دین را به گوش مردم می رسانند.

(۳) مراکز تزکیه و تربیت اسلامی تاسیس می نمایند.

(۴) وحی را ثبت و ضبط کنند.

❑ پاسخ سایت ایران عرضه: گزینه ۱ ➡ مسئولیت اصلی رسالت انبیاء پس از خروج انسان از بهشت و ورود به زندگی دنیوی،

ایجاد تحول و رستاخیز در زندگی فردی و اجتماعی انسان ها است. انبیاء مأمور بودند که با بیان حقایق الهی و ارائه راهبردهای عملی، مسیر هدایت و کمال را برای بشر فراهم کنند. این تحول شامل:

۱. هدایت فکری و عقیدتی: آموزش اصول توحیدی و تبیین فلسفه خلقت.

۲. تحول در رفتار و اخلاق: اصلاح رفتارهای اجتماعی و فردی بر اساس آموزه های الهی.

۳. ایجاد جامعه ای عادلانه: تأسیس نظام های اجتماعی و حکومتی بر مبنای عدالت و تقوا.

انبیاء با استفاده از کلام (بیان آیات و احادیث)، اهداف متعالی دین را به متن زندگی انسان ها وارد کرده و جوامع را متحول می کردند.

۲- قانون (دینی) که پیامبران برای دگرگونی جامعه می آورند چه ویژگی هایی دارد؟ (منبع ایران عرضه)

(۱) الهی است چون خدا انسان را خلق کرده است و شجاعت و قضاوت را بر او فرستاده تا راه بهتر زندگی کردن را دریابد.

(۲) فطری است یعنی خود انسان ها عمل به آن قوانین را می خواهند.

(۳) سختگیرانه است زیرا انشان ها باید با سختی رشد کنند.

(۴) موارد ۱ و ۲

۳- کدام عبارت درست است؟

(۱) انبیاء ترجیحاً گفتمان دین را بیان می کنند و از اول به انسان ها، انتهای مسیرشان را نشان نمی دهند.

(۲) انبیاء شعارهای تیزی ندارند که همه بتوانند با آنها ارتباط بگیرند.

(۳) انبیاء سخن آخر خود را در آغاز می گویند و هر کس در ابتدای ایمان، جهت و هدف را از روی بصیرت می تواند بفهمد.

(۴) دین حقیقی درست است. اما زیبا و جذاب نیست؛ لذا هنر انبیاء این است که دین را زیبا کنند و به جامعه عرضه کنند.

۴- محوری ترین هدف بعثت انبیاء کدام مورد می باشد؟

(۲) ایجاد تحول در جامعه

(۱) استکبار ستیزی

(۴) رساندن انسان ها به توحید

(۳) ایجاد عدالت در جامعه

۵- جبهه ای که حول رسول الله (ص) تشکیل می شود برای اینکه در جریان های فکری و مدنی ماندگار و باثبات باشد چه

کاری باید انجام دهد؟ (اصلی ترین اقدام)

(۱) تبیین دین را برای مردم بدانند. (۲) عدالت را در جامعه نهادینه نمایند.

(۳) احساس مسئولیت در برابر مردم (۴) دنبال تبیین دین برای مردم باشند.

۶- با دقت در ماهیت و کیفیت احکام شرع درمی یابیم که اجرای آن و عمل به آن مستلزم....

(۱) این است که تمام انتظارات مردم از کتاب بیان شده باشد.

(۲) این است که همه شرایط بر حقیقت و تربیت انسان لحاظ شده باشد.

(۳) تشکیل حکومت است.

(۴) ایجاد عدالت در جامعه است.

۷- وقتی کشورهای استعمارگر با پیشرفت علمی و صنعتی یا به حساب استعمار و غارت ملل آسیا و آفریقا ثروت و تجملاتی

فراهم آوردند بعضی ها ذکر کردند راه پیشرفت صنعتی این است که قوانین و عقاید خود را کنار بگذارند این تفکر ناشی از:

(۱) خودباختگی در برابر پیشرفت مادی استعمارگران است.

(۲) ایمان و اعتقاد و اخلاق اسالمی است.

(۳) این است که استعمارگران به نظر ما آوردند که اسالم حکومتی ندارد.

(۴) نقشه استعمارگران است برای بازداشتن مسلمین از سیاست و اساس حکومت.

۸- شرایط زمامدار در اسلام چیست؟

(۱) علم به قانون و عدالت (۲) شرایط عامه مثل عقل و تدبیر

(۳) مدیر و مدبر (۴) مانند شرایط امام معصوم علیه السلام

۹- ولایت اعتباری یعنی

(۱) اموری که به موجب آن جمیع ذرات در برابر «ولی امر» خاضعند.

(۲) ولایتی که برای پیامبر و امام در تشکیل حکومت و اجرا و تصدی اداره هست، برای فقیه هم هست.

(۳) برای ولی مقامات معنوی هم هست که جدا از وظیفه حکومت است.

(۴) هیچ کدام

۱۰- تفکر «به گوش یکدیگر می خوانند، این کارها از ما ساخته نیست. نمی توانیم طواغیت را برکنار کنیم» ناشی از چیست؟

(۱) نتیجه تبلیغات سوء چند صد ساله استعمارگران است که در اعماق قلوب حوزه، نجف و قم و مشهد وارد شده و باعث

افسردگی و سستی و تنبلی گردیده و نمی گذارد رشدی داشته باشند.

(۲) آن آدم های بی عرضه ای که در حوزه ها نشسته اند و از عهده تشکیل و ادامه حکومت بر نمی آیند.

(۳) قرائت فردی از اسلام مانند سکولاریزم که بر جدایی دین از دنیا تاکید دارد

(۴) همه موارد

۱۱- بر اساس بیان امام خمینی (ره): انقلاب به هیچ گروهی بدهکاری ندارد و ما هنوز هم چوب اعتمادهای فراوان خود را به می خوریم، آغوش کشور و انقلاب همیشه برای پذیرفتن همه کسانی که قصد خدمت و آهنگ مراجعت داشته و دارند گشوده است ولی نه به قیمت

(۱) نفوذی ها - پایمال شدن خون شهیدان (۲) منافقین - دست برداشتن از اعدام قاتلین

(۳) سلطنت طلب ها - برگشتن پهلوی (۴) لیبرال ها - طلبکاری آنان از همه اصول

۱۲- در بیان امام خمینی (ره) کدام مورد به «معراج پاک اندیشه اسلامی» توصیف شده است؟

(۱) حوزه های علمیه (۲) بسیج

(۳) جبهه های جنگ تحمیلی (۴) دانشگاه ها

۱۳- نامه تاریخی امام (ره) به گورباچف آمده: مذهبی که وسیله شود تا سرمایه های مادی و معنوی کشورهای اسلامی و غیراسلامی، در اختیار ابرقدرتها و قدرتها قرار گیرد و بر سر مردم فریاد کشد که دین از سیاست جدا است مخدر جامعه است. ولی این دیگرمذهب واقعی نیست؛ بلکه مذهبی است که مردم ما آن را «مذهب» می نامند.

(۱) در خدمت استکبار (۲) انگلیسی (۳) آمریکایی (۴) افیون توده ها

۱۴- کدام مورد، از ابعاد پیاده کردن قرآن است؟

(۱) توجه به تلاوت قرآن در مجالس و محافل

(۲) چاپ و نشر قرآن با خط زیبا

(۳) پایبندی به احکام

(۴) تشکیل حکومت عدل

۱۵- بر اساس بیانات حضرت امام خمینی (ره)، هدف عظیم انقلاب اسلامی ایران چیست؟

(۱) سعادت‌مندی اقشار مختلف جامعه

(۲) ایجاد حکومت جهانی اسلام

(۳) گسترش رفاه برای تمام مسلمانان و مستضعفان جهان

(۴) نابودی استعمارگران

◀ آشنایی با اسناد و قوانین بالادستی

۱۶- سیاست های کلی برنامه هفتم با اولویت اصلی تعیین شده است.

(۱) خودکفایی در عرصه کشاورزی (۲) پیشرفت اقتصادی توأم با عدالت

۱۷- طبق سیاست های کلی برنامه هفتم توسعه نرخ رشد اقتصادی متوسط در طول برنامه درصد تعیین شده است.

(۱) ۵ درصد (۲) ۶ درصد (۳) ۷ درصد (۴) ۸ درصد

۱۸- طبق سیاست های کلی برنامه هفتم، افزایش نرخ باروری و موالید به حداقل طی سال تعیین شده است.

(۱) ۲/۵ - ۴ سال (۲) ۲ - ۳ سال (۳) ۲/۵ - ۵ سال (۴) ۲ - ۵ سال

۱۹- هماهنگ نمودن فعالیت های سیاسی، اقتصادی، اجتماعی، فرهنگی و اقتصادی در ارتباط با تدابیر کلی دفاعی و امنیتی

از وظایف کدام است؟

(۱) ستاد فرماندهی کل نیروهای مسلح (۲) وزارت دفاع و وزارت کشور

(۳) شورای عالی امنیت ملی (۴) شورای هماهنگی سران قوا

۲۰- کدام مورد صحیح نیست؟

(۱) تفسیر قانون اساسی برعهده شورای نگهبان است.

(۲) مجلس شورای اسلامی حق تحقیق و تفحص در تمام امور کشور را دارد.

(۳) تفسیر قوانین عادی برعهده مجلس شورای اسلامی است.

(۴) دیوان محاسبات کشور زیر قوه قضاییه است.

۲۱- دولت کدام مورد را باید به صورت رایگان گسترش دهد؟

(۱) آموزش و پرورش تا پایان دوره ابتدایی (۲) آموزش و پرورش تا پایان دوره متوسطه

(۳) تحصیلات عالی تا خودکفایی کشور (۴) موارد ۲ و ۳

۲۲- براساس بیانیه گام دوم هدف نهایی انقلاب اسلامی چیست؟

(۱) برقراری عدالت اجتماعی

(۲) کاهش فاصله طبقاتی در جامعه

(۳) تحقق تمدن نوین اسلامی و آمادگی برای ظهور امام زمان (ع)

(۴) تشکیل حکومت اسلامی

۲۳- نخستین توصیه رهبر انقلاب اسلامی به جوانان و تاکید بر اینکه بدون آن هیچ گامی نمی توان برداشت و هیچ قفلی باز

نمی شود، چیست؟

(۱) رعایت عزت ملی و مرزبندی با دشمن (۲) کسب علم و پژوهش

(۳) عدالت و مبارزه با فساد (۴) امید و نگاه خوش بینانه به آینده

۲۴- طبق متن بیانیه گام دوم، مهمترین عیوب ساختاری و اقتصاد کشور، کدام است؟

(۱) دولتی بودن بخش های از اقتصاد که در حیطه وظایف دولت نیست و وابستگی اقتصاد به نفت

(۲) نبود سرمایه گذاری مناسب در حوزه زیر ساختها

(۳) نگاه به خارج و نه به توان و ظرفیت داخلی

(۴) موارد ۱ و ۳

۲۵- مهمترین ظرفیت امید بخش کشور چیست؟

(۱) نیروی انسانی مستعد و کارآمد

(۲) وجود معادن طبیعی نفتی

(۳) بازار بزرگ منطقه ای با داشتن ۱۵ همسایه

(۴) همه موارد

◀ ادبیات فارسی

۲۶- (یک سو) در بیت زیر به چه معناست؟

"به هستیش باید که خستو شوی / ز گفتار بیکار یکسو شوی"

(۱) برکنار (۲) شیوا (۳) متفق القول (۴) یک صدا

۲۷- ژاژ خواهی کنایه از چیست؟

(۱) غیبت (۲) بیهودگی (۳) فاش کردن اسرار (۴) راست گویی

۲۸- قالب شعری ابیات زیر چیست؟

"منشین با بدان که صبحت بد / گرچه پاکی ، تو را پلید کند

آفتابی به این بزرگی را / پاره ای ابر ناپدید می کند "

(۱) دوبیتی (۲) رباعی (۳) چهارپاره (۴) قطعه

۲۹- موضوع کتب سبک شناسی ملک الشعرا بهار کدام گزینه است؟

(۱) تطور نثر فارسی (۲) وزن شعری

(۳) بررسی سبک استان های فارسی (۴) تحول شعر فارسی

۳۰- "سرو غاتفر" نماد کدام صفت است؟

(۱) پایداری (۲) آزادگی (۳) تنهایی (۴) راستی و درستی

۳۱- فعلی که انجام دادن کاری در حال رخ دادن در زمان حال نشان می دهد کدام است؟

(۱) مضارع ملموس (۲) فعل مستقبل (۳) مضارع التزامی (۴) ماضی ملموس

۳۲- در جمله "زمین مر جبرئیل را سوگند داد"، "مر" از نظر دستوری کدام است؟

(۱) از ادات تاکید مفعول (۲) زائد (۳) پیشوند (۴) حرف ربط

۳۳- کدام لغت به شکل صحیح معنی نشده است؟

(۱) صله: بخشش (۲) بدعت: رسم تازه (۳) خستو: معتر (۴) حرمان: جدایی

۳۴- کدام گزینه اضافه تشبیهی است؟

(۱) دست روزگار (۲) ابر بهاری (۳) دریای عقل (۴) کوه استوار

۳۵- "رنگین نامه" را در چه موردی به کار می برند؟

(۱) مجلات بی محتوا (۲) نامه های شرم آور

(۳) مجلات بد زبان (۴) روزنامه های هوچی

۳۶- در مصراع "خیز و وزن بر سپر خاک تیغ"، "تیغ" استعاره از چیست؟

(۱) شمشیر (۲) خنجر (۳) بیل (۴) نیزه

۳۷- کدام یک نشانه نقل قول مستقیم است؟

(۱) ویرگول (۲) نقطه ویرگول (۳) نقطه (۴) دو نقطه

۳۸- نشانه های نگارشی در کدام گزینه درست به کار رفته است؟

(۱) اگر نامه ها ، به موقع برسند، به موقع هم به آنها رسیدگی می شود.

(۲) اگر نامه ها به موقع برسند، به موقع هم به آنها رسیدگی می شود.

(۳) اگر نامه ها به موقع برسند، به موقع هم به آنها رسیدگی می شود!

(۴) اگر نامه ها به موقع برسند ، به موقع هم به آنها ، رسیدگی می شود.

۳۹- از نظر صورت درست املای کلمه های تنوین دار کدام گزینه درست است؟

(۱) احتراماً، تلفناً، دقیقاً، گاهاً (۲) احتراماً، تلفنی، دقیقاً، گاهی

(۳) احتراماً، فامیلاً، دقیقاً، نژاداً (۴) احتراماً، تلفناً، دقیقاً، گاهاً

۴۰- در کدام گزینه خطای نگارشی وجود ندارد؟

(۱) سپرده گذاری، سپاسگذار، افزایشات، آشناییت

(۲) سپرده گزاری، سپاسگذار، افزایش ها، آشنابودن

(۳) سپرده گذاری، سپاسگزار، افزایش ها، آشنابودن

(۴) سپرده گزاری، سپاسگزار، افزایشات، آشناییت

زبان انگلیسی

41- He was to the hospital with acute appendicitis.

1) crashed 2) rushed 3) pressurized 4) activated

42- Your latest report. I'm, is not up to your usual standard.

1) happy to say 2) frightened

3) afraid

4) jealous and envious

43- Are you going to your house in London while you are aboard?

1) let

2) hire

3) sale

4) dispose

44- The professor's remarks caused him great embarrassment and he deeply regretted not having prepared his lecture.

1) complicated

2) wise

3) resurgent

4) malignant

45- The deadline for our assignment has been..... Now we don't know when we'll submit it or if it will be submitted at all.

1) theoretical

2) identical

3) indefinite

4) infinite

46- It seems that I so cautious; I found the place completely deserted, anyway.

1) must have been

2) needn't have been

3) would have had to be

4) shouldn't be

47- My wife..... the dinner, because I had already cooked it.

1) didn't have to cook

2) would cook

3) may have cooked

4) needn't have cooked

48- The purpose of this bridge project is to eliminate the cause of such accidents to keep traffic moving at a steady rate.

1) only/but also

2) both/and

3) as much/than

4) so/as

49- The slavery issue was one reason the northern and southern states fought against each other during the US Civil War.

1) thus/in that

2) only/why

3) moreover/that

4) as much/whereas

50- This is not a new theory; quite a lot of scientists..... on it for several decades.

1) would have worked

2) had worked

3) have been working

4) have to work

51- I think we should put as much on preventing disease as we do on curing it.

1) increase

2) moment

3) belief

4) emphasis

هوش و توانمندی های ذهنی

با توجه به متن به سه سوال زیر پاسخ دهید.

پنج نفر اروپایی با ملیت ها و زبان های متفاوت در یک کنفرانس در ژنو شرکت کرده اند. وضعیت این افراد از نظر زبان به شرح زیر است.

- آقای x اسپانیایی و ایتالیایی صحبت می کند.

- آقای y اسپانیایی و انگلیسی را می فهمد

- آقای z انگلیسی و ایتالیایی صحبت می کند.

- آقای a فرانسه را خوب صحبت میکند و اسپانیایی را خوب می فهمد.

- آقای b ایتالیایی است و فرانسه را نیز صحبت می کند.

- تبعه هر کشور زبان آن کشور را هم می فهمد و هم صحبت می کند .

- کسانی که زبانی را صحبت میکنند آن را نیز می فهمد ولی کسانی که زبانی را می فهمند الزاماً آن را صحبت نمی کنند

۵۲- کدام یک از افراد زیر به عنوان مترجم آقای z و آقای a در گفتگوها می تواند عمل کند؟

(۱) فقط آقای b (۲) فقط آقای x (۳) آقای x و آقای b (۴) آقای y و آقای b

۵۳- کدام افراد میتوانند بدون مترجم با هم گفتگو کنند؟

(۱) x و y (۲) x و z (۳) y و b (۴) x و a

۵۴- دو زبان که در بین اعضاء این کنفرانس متداول تر است و افراد بیشتری با آن زبانها تکلم میکنند. یا آن را میفهمند.

کدامند؟

(۱) انگلیسی و اسپانیایی (۲) انگلیسی و ایتالیایی

(۳) اسپانیایی و ایتالیایی (۴) فرانسه و ایتالیایی

۵۵- خلبان های با تجربه معمولاً نسبت به خلبان های مبتدی در یادگیری پرواز با هواپیماهای فوق سبک مشکل بیشتری

دارند. زیرا آنها با هواپیما ها سنگین تر عادت دارند. خلبان با تجربه هنگام پرواز با هواپیماهای فوق سبک مسائل مربوط به

باد را کمتر رعایت میکنند. از جملات فوق استنباط می شود، هواپیماهای سنگین تر:

(۱) با سختی بیشتری قابل هدایت هستند (۲) در باد راحت تر قابل هدایت هستند

(۳) در بین خلبانان پر طرفداری نیستند (۴) ایمنی کمتری دارند

۵۶- با چهار کلمه A, B, C, D چند کلمه سه حرفی میتوان ساخت به طوری که A و B کنار هم باشند؟

(۱) ۲۴ (۲) ۱۲ (۳) ۸ (۴) ۳

۵۷- در یک مزرعه پرورش اسب دو نوع اسب سفید و سیاه وجود دارند. دقیقاً "پنج ششم" اسب های سیاه نعل دارند و دقیقاً

"دو سوم" اسب های سیاهی که نعل دارند از نژاد اسب ترکمن هستند اگر تعداد اسب های سفید ۳ تا بیشتر از اسب های

سیاه باشند، حداقل تعداد اسب های این مزرعه کدام است؟

۵۸- کدام عدد با اعداد دیگر تفاوت دارد؟

۴۳۵۲ (۴)

۳۹۶۶ (۳)

۵۶۹۶ (۲)

۶۹۷۸ (۱)

۵۹- اگر بخواهیم یک تیر چوبی را به چهار قطعه تقسیم کنیم ۳۰ دقیقه طول می کشد. اگر بخواهیم این تیر چوبی را ۸ قطعه تقسیم کنیم چقدر زمان نیاز داریم؟

۹۰ (۴) دقیقه

۸۰ (۳) دقیقه

۷۰ (۲) دقیقه

۶۰ (۱) دقیقه

دو سوال زیر، از یک پرسش و دو اطلاع (I و II) تشکیل شده اند. بر اساس اطلاعات، جواب صحیح را مشخص نمایید.

۶۰- قطاری در حال عبور از یک تونل است. دقیقاً زمانی که انتهای قطار میخواید وارد تونل شود، چند متر از طول قطار از تونل خارج شده است؟

(I) وقتی دقیقاً وسط قطار میخواید از تونل خارج شود، انتهای قطار ۱۵۰ متر از تونل را پیموده است.

(II) وقتی ابتدای قطار دقیقاً به وسط تونل میرسد، سه پنجم از طول قطار هنوز وارد تونل نشده است.

(I) اطلاع (I) به تنهایی برای پاسخگویی به سوال کافی است؛ ولی اطلاع (II) به تنهایی کافی نمی باشد و یا اینکه اطلاع (II) به تنهایی برای پاسخگویی به سوال کافی است؛ ولی اطلاع (I) به تنهایی کافی نمی باشد.

(۲) هر یک از دو اطلاع به تنهایی برای پاسخگویی به سوال کافی نمی باشد؛ ولی هر دو با هم برای پاسخگویی کافی می باشد.

(۳) هر یک از دو اطلاع (I) و (II) به تنهایی برای پاسخگویی به سوال کافی می باشند.

(۴) هر دو اطلاع (I) و (II) با هم نیز برای پاسخگویی به سوال کافی نمی باشند.

۶۱- باقیمانده تقسیم عدد ۳۰ بر X برابر با Y میباشد X چند است؟

(I) مقدار X عددی اول و Y مضرب ۲ می باشد.

(II) مقدار X عددی فرد و Y مضرب ۴ می باشد.

(I) اطلاع (I) به تنهایی برای پاسخگویی به سوال کافی است؛ ولی اطلاع (II) به تنهایی کافی نمی باشد و یا اینکه اطلاع (II) به تنهایی برای پاسخگویی به سوال کافی است؛ ولی اطلاع (I) به تنهایی کافی نمی باشد.

(۲) هر یک از دو اطلاع به تنهایی برای پاسخگویی به سوال کافی نمی باشد؛ ولی هر دو با هم برای پاسخگویی کافی می باشد.

(۳) هر یک از دو اطلاع (I) و (II) به تنهایی برای پاسخگویی به سوال کافی می باشند.

(۴) هر دو اطلاع (I) و (II) با هم نیز برای پاسخگویی به سوال کافی نمی باشند.

فناوری اطلاعات

۶۲- در نرم افزار Access فیلدی که مقدار آن بین تمام رکوردهای جدول یکتاست، گویند.

Index Field (۴)

Memo (۳)

Foreign Key (۲)

Key Field (۱)

۶۳- از کدام ابزار Word برای کپی قالب بندی کاراکتر یا پاراگراف مورد نظر به کاراکتر یا پاراگراف دیگر استفاده می شود؟

Format Painter (۲)

Copy (۱)

Replace (۴)

Clip Board (۳)

۶۴- حافظه ای که بین CPU و RAM تعبیه و از آن برای بالا بردن سرعت دسترسی به داده ها استفاده می شود، چیست؟

EPROM (۴)

HARD (۳)

CACHE (۲)

ROM (۱)

۶۵- کامپیوترهای شخصی جزو کدام یک از دسته بندی کامپیوترهای زیر می باشند؟

Micro Computer (۲)

Mainframe (۱)

Super Computer (۴)

Mini Computer (۳)

۶۶- نام پیش فرض فایل های Excel کدام گزینه می باشد؟

Work sheet (۴)

Word book (۳)

Book (۲)

Document (۱)

۶۷- برای حرکت بین کار پوشه های باز از چه روشی استفاده می شود؟

(۱) سربرگ View گروه Window ابزار Split

(۲) سربرگ View گروه Window ابزار New Window

(۳) سربرگ View گروه Window ابزار Arrange All

(۴) سربرگ View گروه Window ابزار Switch

۶۸- کدام یک از نوارهای زیر فقط در محیط Excel دیده می شود؟

Quick Access (۴)

Ribbon (۳)

Formula Bar (۲)

Address Bar (۱)

۶۹- در کدام روش برای ایجاد فایل نمایشی می توان از الگوهای موجود استفاده نمود؟

Installed themes (۲)

Blank and recent (۱)

New from existing (۴)

Install template (۳)

۷۰- برای تایپ خودکار com بعد از آدرس سایت از کدام کلیدهای ترکیبی باید استفاده نمود؟

Space+Enter (۴)

Ctrl+Enter (۳)

Alt+Enter (۲)

Shift+Enter (۱)

۷۱- به ارتباط بین جداول در پایگاه داده ها..... می گویند.

Database (۴)

Integrity Rules (۳)

Relationship (۲)

Entity (۱)

۷۲- معمولاً پسوند سایت های مرتبط با سازمان های خصوصی کدام گزینه می باشد؟ (تهیه شده توسط ایران عرضه)

Gov (۴)

Net (۳)

Org (۲)

Com (۱)

۷۳- کدام گزینه در نرم افزار word حاوی مهمترین دستورات در جهت مدیریت سند است؟

Title Bar (۴)

File menu (۳)

Ribbon (۲)

Quick Access (۱)

۷۴- قابلیت کوچک نمایی برای مشاهده کل اطلاعات به صورت یکجا را..... می گویند.

Fit (۴

Font Size (۳

Zoom Out (۲

Zoom In (۱

۷۵- برای جستجوی فایل هایی که چهار حرفی بوده و حرف دوم نام آنها a می باشد، از کدام گزینه استفاده می شود؟

a?.* (۴

?a??.* (۳

a?. (۲

a.* (۱

۷۶- در سیستم عامل Windows برای حذف فیزیکی (قطعی) فایل ها از کدام یک از کلیدهای ترکیبی استفاده می شود؟

Ctrl+Delete (۲

Shift+Delete (۱

Ctrl+Shift+Delete (۴

Alt+Delete (۳



❖ فصل سوم: اصل سوالات سیزدهمین آزمون استخدامی فراگیر دستگاه های

اجرایی شهریور ۱۴۰۴ (مشترک با آزمون وزارت بهداشت)

◀ معارف اسلامی

۱- درک فقر و نیاز بشر نسبت به خدا در گرو چیست؟

- (۱) غنای حقیقی (۲) کمال حقیقی (۳) علم حقیقی (۴) ایمان حقیقی

❑ پاسخ سایت ایران عرضه: گزینه ۳ ➡ ثمره درک نیازمندی به خدای بی نیاز: انسانهای ناآگاه نسبت به نیاز دائمی انسان به خداوند بی توجه اند؛ اما انسانهای آگاه دائماً سایه لطف و رحمت خدا را احساس میکنند و خود را نیازمند عنایات پیوسته او میدانند. هرچه معرفت انسان به خود و رابطه اش با خدا بیشتر شود نیاز به او را بیشتر احساس و عجز و بندگی خود را بیشتر ابراز می کند.

افزایش خودشناسی ← درک بیشتر فقر و نیاز ← افزایش عبودیت و بندگی
برای همین است که پیامبر گرامی ما با آن مقام و منزلت خود در پیشگاه الهی، عاجزانه از خداوند می خواهد که برای یک لحظه هم لطف و رحمت خاصش را از او نگیرد و او را به حال خود واگذار نکند:
اللَّهُمَّ لَا تَكْلَنِي إِلَى نَفْسِي طَرَفَةَ عَيْنٍ أَبَدًا؛ خدایا مرا چشم به هم زدن به خودم وامگذار.

۲- با توجه به معارف اسلامی شناخت هستی و چیستی خدا به ترتیب موصوف به و است.

- (۱) ممکن - ناممکن (۲) ناممکن - ممکن (۳) ممکن - ممکن (۴) ناممکن - ناممکن

۳- کدام رابطه می تواند میان بندگی و خودشناسی و فقر و نیازمندی ما به خداوند، برقرار باشد؟

- (۱) افزایش بندگی ← افزایش خودشناسی ← درک بیشتر فقر و نیاز
(۲) افزایش بندگی ← درک بیشتر فقر و نیاز ← افزایش خودشناسی
(۳) افزایش خودشناسی ← درک بیشتر فقر و نیاز ← افزایش بندگی
(۴) درک بیشتر فقر و نیاز ← افزایش بندگی ← افزایش خودشناسی

۴- مانند روحی در پیکره‌ی معارف و احکام دین حضور دارد.

- (۱) توحید (۲) معاد (۳) نبوت (۴) عدل

۵- اگر معتقد باشیم خدا تنها مبدأ جهان است و در آفرینش شریک و همتایی ندارد یعنی توحید در است.

- (۱) ربوبیت (۲) خالقیت (۳) ولایت (۴) مالکیت

۶- سخن قرآن کریم درباره کسی که هوای نفس را معبود خود بگیرد، کدام است؟

- (۱) آیا به آنچه از حق آمده کفر می ورزند؟ (۲) آیا تو می توانی ضامن او باشی؟
(۳) همانا آنان در خسران آشکار هستند. (۴) همانا اینان در دنیا و آخرت زیان کار هستند.

۷- تحقق بعد اجتماعی توحید عملی مرهون است.

- (۱) قبول توحید در خالقیت
(۲) تشکیل نظام الهی
(۳) بعد فردی
(۴) نفی ظلم

۸- کدام گزینه به معنای یگانه شدن برای خداست؟

- (۱) توحید در خالقیت (۲) عمل صالح (۳) توحید نظری (۴) اخلاص در بندگی

۹- اولین قدم برای ورود به بندگی و اخلاص چیست؟

- (۱) راز و نیاز با خدا (۲) توحید به معاد (۳) حق پذیری (۴) اهتمام به عمل صالح

۱۰- سپهسالار لشکر خدا و راهبر لشکر شیطان به ترتیب کدام است؟

- (۱) شیطان - عقل (۲) پیامبر - شیطان (۳) عقل - طاعت (۴) عقل - هوی و هوس

۱۱- «توحید اسلامی» الهام در چه زمینه ای است؟

- (۱) باورها (۲) حکومت (۳) مسئولیت ها (۴) تکالیف

۱۲- تاثیر توحید در روان یک موحد کدام است؟

- (۱) اتصال معنوی (۲) یقین قلبی (۳) اطمینان دائمی (۴) شکاندن ریشه ی ترس

زبان و ادبیات فارسی

۱۳- کدام مجموعه از ترکیب ها «اضافه تشبیهی» است؟

- (۱) مزید نعمت - شرط انصاف - مرغ سحر - کلاه شکوفه
(۲) جیب مراقبت - امید اجابت - دیوار امت - قصه عشق
(۳) پرده ناموس - کلاه شکوفه - سرور کائنات - درگاه خداوند
(۴) دریای معرفت - شب جهل - شکوفه اشک - آتش عشق

۱۴- در کدام گزینه «کنایه» به کار رفته است؟

- (۱) بزد تیر بر چشم اسفندیار/سیه شد جهان پیش آن نامدار
(۲) تهمتن گز اندر کمان راند زود/بر آن سان که سیمرغ فرموده بود
(۳) تو را گر همی یار باید بیار/مرا یار هرگز نیاید به کار
(۴) بفرمود تا زین بر اسب سیاه/نهادند و بردند نزدیک شاه

۱۵- «عَدَّت» به چه معناست؟

- (۱) ارزیابی کردن (۲) فرصت دادن (۳) جنگ و دعوا (۴) ساز و برگ

۱۶- کدام گزینه ترکیب وصفی است؟

- (۱) دست اجل (۲) دست خالی (۳) دست ادب (۴) دست دوست

۱۷- مفهوم کلی این بیت با کدام بیت تناسب دارد؟

«موی سپید را فلکم رایگان نداد/ این رشته را به نقد جوانی خریده ام»

- (۱) چگونه پیر جوانی و جاهلی نکند / در این قضیه که گردد جهان پیر، جوان
(۲) برف پیری می نشیند بر سوم / همچنان طبعم جوانی می کند
(۳) قدح پر کن که من از دولت عشق / جوان بخت جهانم گرچه پیرم
(۴) سال ها با بار پیری خم شدم در جست و جویش / تا به چاه گور هم رفتم نشد پیدا جوانی

۱۸- در کدام گزینه نام اثری منسوب به «محمد تقی بهار» آمده است؟

- (۱) ایده آل (۲) گنجینه نشاط
(۳) تاریخ تطور شعر فارسی (۴) خداوند نامه

۱۹- مهم ترین قالب نثر دوره معاصر کدام است؟

- (۱) نثر داستانی (۲) ادبیات نمایشی (۳) سفرنامه (۴) مقاله

۲۰- در متن کدام آرایه به کار نرفته است؟

«طاووس این بهارم، ساغر کش خمارم در راه انتظارم صدچشم و یک پریدن»

- (۱) سجع (۲) تلمیح (۳) تشبیه (۴) تضمین

۲۱- معنی کلمه رزمه کدام است؟

- (۱) بقچه (۲) محل رزم (۳) رزومه (۴) هیچ کدام

۲۲- نقش ستاره (علامت) در علائم نگارشی چیست؟

- (۱) برای نشان دادن جملات و کلمات محذوف
(۲) جلو کلمات و جملاتی که می خواهیم آن ها را معنی کنیم
(۳) برای توضیح یک کلمه در پاورقی
(۴) دستورهای اجرایی در نمایشنامه

۲۳- هر یک از آثار رو به رو به ترتیب نمونه کدام نثر است؟ (احسن التواریخ - عالم آرای عباسی)

- (۱) مصنوع، ساده (۲) ساده، مصنوع (۳) بینابین، ساده (۴) مصنوع، بینابین

۲۴- نگارش کدام کلمه با توجه به معنای آن درست است؟

- (۱) حوضه: ناحیه (۲) فحث: کاوش (۳) جلیث: همنشین (۴) مهجور: متروک

اطلاعات عمومی و دانش اجتماعی

۲۵- پدر علم جامعه شناسی چه کسی است؟

- (۱) کارل مارکس (۲) آگوست کنت (۳) امیل دور کیم (۴) ماکس وبر

۲۶- قرارداد گلستان در زمان کدام پادشان قاجار امضا شد؟

- (۱) آقامحمد خان (۲) ناصرالدین شاه (۳) فتحعلی شاه (۴) مظفرالدین شاه

۲۷- اصل تفکیک قوا در کدام اصل قانون اساسی ذکر شده است؟

- (۱) ۶۰ (۲) ۵۷ (۳) ۱۱۰ (۴) ۹

۲۸- اصل ۴۴ قانون اساسی به کدام یک از موضوعات زیر اشاره دارد؟

- (۱) حقوق مردم (۲) اقتصاد (۳) آزادی مطبوعات (۴) آموزش و پرورش

۲۹- عملیات ثامن الائمه در سال با هدف انجام شد و عملیات با هدف آزاد سازی خرمشهر انجام شد.

- (۱) ۱۳۶۲ - آزادسازی سوسنگرد - بیت المقدس (۲) ۱۳۶۱ - شکست حصر آبادان - فتح المبین
(۳) ۱۳۶۳ - فتح فاو - فتح المبین (۴) ۱۳۶۰ - شکست حصر آبادان - بیت المقدس

۳۰- کدام کارگردان ایران اولین جایزه نخل طلایی کن را دریافت کرده است؟

- (۱) عباس کیارستمی (۲) اصغر فرهادی (۳) جعفر پناهی (۴) داریوش مهرجویی

۳۱- مصرف برای کاهش پوکی استخوان ضروری تر از بقیه است.

- (۱) فسفر (۲) کلسیم (۳) آهن (۴) پتاسیم

۳۲- کدام کشور عضو اتحادیه اروپا نمی باشد؟

- (۱) قبرس (۲) لتونی (۳) مالت (۴) بریتانیا

۳۳- میراث فرهنگی ناملموس به چه معناست؟

- (۱) زبان های محلی (۲) آثار تاریخی (۳) سنت ها و آئین ها (۴) آثار طبیعی

۳۴- کدام گاز بیشترین سهم را در جو زمین دارد؟

- (۱) اکسیژن (۲) نیتروژن (۳) دی اکسید کربن (۴) هیدروژن

۳۵- اولین مدال طلای المپیک ایران در چه سالی و توسط چه کسی کسب شد؟

- (۱) ۱۹۵۶ - جعفر سلماسی (۲) ۱۹۵۶ - امامعلی حبیبی
(۳) ۱۹۶۰ - غلامرضا تختی (۴) ۱۹۵۲ - محمود نامجو

۳۶- لقب «افصح المتکلمین» به کدام شاعر تعلق دارد؟

- (۱) رودکی (۲) فردوسی (۳) سنایی (۴) حافظ

◀ قوانین و مقررات اداری و قانون اساسی

۳۷- مسئولی است که از لحاظ سلسله مراتب سازمانی به طور مستقیم مسئولیت سرپرستی و ارجاع کار

به ارزشیابی شونده را دارد و از وی گزارش دریافت می کند.

- (۱) ارزشیابی کننده (۲) مدیر بلافصل (۳) تایید کننده (۴) گزینه الف و ب

۳۸- کارمندانی که به صورت غیر منظم و بر حسب نوبت به صورت کشیک یا عناوین مشابه آن در هر یک از حالت زمانی عهده دار انجام مسئولیت های محوله باشند

(۱) مشمول پرداخت فوق العاده نوبت کاری نیستند.

(۲) با رعایت مقررات مربوط از فوق العاده اضافه کار ساعتی برخوردار خواهد بود.

(۳) مشمول پرداخت فوق العاده نوبت کاری می شوند.

(۴) موارد الف و ب

۳۹- کارمندان دستگاه های اجرائی می توانند در طول مدت خدمت خود با موافقت دستگاه ذیربط حداکثر از مرخصی بدون حقوق استفاده نمایند و اگر مرخصی برای ادامه تحصیلات عالی باشد تا قابل افزایش خواهد بود.

آزمون فراگیر سیزدهم و بهداشت ۲۷ شهریور ۱۴۰۴ قوانین مقررات اداری

(۱) دو سال - یک سال (۲) یک سال - دو سال

(۳) یک سال - یک سال (۴) سه سال - دو سال

۴۰- کدام گزینه غلط است؟

(۱) پرداخت اضافه کاری بدون انجام کار اضافی به نظر مدیر سازمان بستگی ندارد.

(۲) پرداخت اضافه کاری تنها در قبال انجام کار اضافی در ساعات اداری مجاز می باشد.

(۳) پرداخت اضافه کاری بدون انجام کار اضافی وجاهت قانونی ندارد.

(۴) پرداخت اضافه کاری بدون انجام کار اضافی در حکم تصرف غیر قانونی وجوه و اموال عمومی است.

۴۱- کدام گزینه صحیح می باشد؟

(۱) در به کارگیری و جذب نیروی انسانی جدید و مورد نیاز توسط واحد مجری، اولویت با نیروی انسانی جدید است.

(۲) کاهش قانونی حقوق و مزایای کارکنان واحد مجری در دوره اجرای تفاهم نامه، به عنوان تعهدات دستگاه در تفاهم نامه منظور و توسط دستگاه اجرایی تأمین می شود.

(۳) هزینه های ناشی از انعقاد تفاهم نامه نباید از مجموع اعتبارات هزینه هایی که در بودجه مصوب سالانه پیش بینی شده، تجاوز کند.

(۴) موارد الف و ب

۴۲- چه میزان مرخصی با حقوق سالانه کارمندان در دستگاه های اجرائی در طول سال قابل ذخیره کردن است؟

(۱) ۲۰ روز (۲) نصف مرخصی ها (۳) کل مرخصی ها (۴) ۱۰ روز

۴۳- حداقل چند ماه پیش از پایان اعتبار گواهینامه متقاضیان تمدید گواهینامه صلاحیت خدمات مشاوره مدیریتی باید درصدد تمدید آن برآیند؟

(۱) دو ماه پس از انقضای اعتبار گواهینامه (۲) حداقل ۱ ماه پیش از پایان اعتبار گواهینامه

۳) حداقل ۲ ماه پیش از پایان اعتبار گواهینامه (۴) یک ماه پس از انقضای اعتبار گواهینامه

۴۴- پیشنهاد بازنگری و بهبود دستورالعمل از وظایف است.

۱) وزارتخانه

۲) معاون نوسازی اداری

۳) رئیس امور مدیریت عملکرد و ارتقای فرهنگ سازمانی

۴) کمیته تشخیص صلاحیت

۴۵- در اجرای ماده ۲ آیین نامه اجرایی ماده ۲۰ قانون مدیریت خدمات کشوری هر نوع نظر، فکر و راهکاری که بتواند وضعیت

موجود را آسان تر، سریع تر، صحیح تر، ارزان تر، ایمن تر و مطلوب تر کند، نام دارد.

۱) بهره وری (۲) پیشنهاد (۳) رویکرد (۴) آیین نامه

۴۶- تامین خدمات عمومی و تخصصی مورد نیاز دستگاه اجرایی با استفاده از ظرفیت بخش خصوصی و تعاونی نام دارد.

۱) خرید خدمات (۲) خدمت دهنده (۳) قیمت خدمات (۴) تعیین قیمت

۴۷- مصوبات کمیسیون های دولت پس از تایید کدام مقام یا مرجع لازم الاجرا خواهد بود؟

۱) مجلس شورای اسلامی (۲) رئیس جمهور

۳) معاون اول (۴) هیات وزیران

۴۸- اختیار رسیدگی به صحت اعتبارنامه نمایندگان مجلس شورای اسلامی به عهده است.

۱) وزارت کشور (۲) شورای نگهبان

۳) مجلس شورای اسلامی (۴) ستاد انتخابات

ریاضی و آمار مقدماتی

۴۹- مجموع دو عدد ۴۰ و کوچکترین مضرب مشترک آنها ۸۴ است. آن دو عدد کدام هستند؟

۱) ۸ و ۳۲ (۲) ۲۸ و ۱۲ (۳) ۱۸ و ۲۲ (۴) ۱۲ و ۲۶

۵۰- اگر A مجموعه اعداد زوج و B مجموعه مضرب های یک رقمی عدد ۴ باشد، $A \cup B$ از A چند عضو بیشتر دارد؟

۱) ۳ (۲) ۲ (۳) ۱ (۴) صفر

۵۱- خارج قسمت $x^2 - 5x + 6$ در تقسیم بر $x - 3$ کدام است؟

۱) $x - 2$ (۲) $x + 2$ (۳) $x + 3$ (۴) $x - 1$

۵۲- اگر $x^2 + y^2 = 2xy$ باشد، حاصل $\frac{x^2 + y^2}{3x^2 - y^2}$ چقدر است؟

۱) ۲ (۲) ۳ (۳) ۱ (۴) ۴

۵۳- طول اضلاع مثلثی a، a+1 و a+2 است. به ازای چه مقدار a، مثلث قائم الزویه است؟

۱) ۱ (۲) ۳ (۳) ۴ (۴) ۳ و ۴

۵۴- تابع $y = x^5 - 3x + 1$ چند نقطه عطف دارد؟

- (۱) یک نقطه (۲) دو نقطه (۳) سه نقطه (۴) ندارد

۵۵- فاصله نقطه $B(2,5)$ از مبدا مختصات و همچنین از نقطه A واقع بر محور طول ها به یک اندازه میباشد. طول نقطه A کدام است؟

- (۱) ۲ (۲) ۳ (۳) ۴ (۴) ۵

۵۶- با توجه به مشاهدات «۹ - ۹ - ۲ - ۲ - ۷ - ۷ - ۱۹ - ۲۰» نما کدام است؟

- (۱) ۲ (۲) ۲ و ۹ (۳) ۵/۸ (۴) ۲۰

۵۷- در توزیع های فاصله ای اگر بخواهیم نما را به طور گرافیکی تعیین کنیم؛ از کدام نمودار استفاده میکنیم؟

- (۱) اجایو (۲) چند گوش (۳) قطاعی (۴) هیستوگرام

۵۸- میانه و انحراف چارکی به ترتیب معرف کدام مشخصه است؟

- (۱) پراکندگی - پراکندگی (۲) پراکندگی - مرکزی

- (۳) مرکزی - مرکزی (۴) مرکزی - پراکندگی

۵۹- در یک توزیع تقریباً قرینه که نما ۱۲ و میانه ۱۰ بوده، میانگین تقریبی کدام است؟

- (۱) ۱۳ (۲) ۱۱ (۳) ۹ (۴) ۵

توانمندی های ذهنی و ویژگی های رفتاری

۶۰- تمام اعداد سه رقمی ممکن با ارقام (۱، ۲، ۳، ۴) کدام است؟

- (۱) ۲۷ (۲) ۴۸ (۳) ۶۴ (۴) ۲۵۶

«اگرچه اکثر دانشگاه ها حقوق مربوط به اختراعات اعضای هیئت علمی را برای خود حفظ میکنند، با این حال اعضای هیئت علمی حق التالیف کتب و مقالات خود را دریافت میکنند. بنابراین اعضای هیئت علمی باید حق الامتیاز تولید نرم افزار های آموزش کامپیوتری مربوط به خود را حفظ کنند»

۶۱- نتیجه گیری بالا معقول تر میبود اگر کدام گزینه به عنوان پیش فرض اضافه در استدلال آن وارد شود؟

- (۱) اعضای هیئت علمی بیشتر احتمال دارد نرم افزار های آموزشی تولید کنند تا اختراعی انجام دهند.

- (۲) اختراعات منزلت بیشتری برای دانشگاه ها به ارمغان میاورند تا کتب و مقالات.

- (۳) بنا به تجربه اکثر دانشگاه ها، نرم افزار های آموزشی از قابلیت بیشتری برای عرضه به بازار برخوردارند تا کتب و مقالات.

- (۴) از نقطه نظر موازین مورد استفاده برای اعطا حق الامتیاز، نرم افزار های آموزشی بیشتر با کتب و مقالات قابل مقایسه اند تا با اختراعات.

«اندازه گیری میزان کارایی افرادی که در بخش خدمات کار میکنند بسیار پیچیده است. مثلاً برای کارمندان اداره پست، چنان مطرح شده است تعداد نامه هایی که هر مامور تحویل میدهد، نشان دهنده میزان کارایی اوست. مسلماً چنین تعبیری از

کارایی چندان قابل دفاع نیست زیرا تحویل دادن تعداد بیشتری از نامه ها ممکن است همراه باشد با مفقود شدن، تاخیر و یا اشتباه در تحویل آن ها»

۶۲- انتقادی که در متن بالا مطرح شده است، در کدام یک از گزینه های زیر نیز منعکس گردیده است؟

- (۱) نامه رسان پست یک شغل خدماتی است ولی نمیتواند معرف تمام مشاغل خدماتی باشد.
 - (۲) وظیفه اول اداره پست، رساندن نامه ها به دست صاحبان آنهاست.
 - (۳) کیفیت کار افرادی که در بخش خدمات کار میکنند، در سنجش کارایی آنان، به سادگی میتواند نادیده گرفته شود.
 - (۴) تعداد نامه هایی که ماموران به درستی تحویل میدهند، شاخص مناسبی برای میزان کارایی آنان است.
- «آلودگی محیط زیست تنها مربوط به آلودگی هوا و آلودگی آبها و محیط فیزیکی نیست، آلودگی صدا نیز مطرح است و از همه بدتر، آلودگی ناشی از فقر اقتصادی، اجتماعی و فرهنگی است که بدترین نوع آلودگی را ایجاد میکند و توجه چندان هم در بحث های مربوط به آلودگی به آنها نمیشود.»

۶۳- کدامیک از جملات زیر منظور نویسنده متن را فوق را بهتر بیان میکند؟

- (۱) برای حفظ محیط زیست، آلودگی هوا و محیط فیزیکی باید به حداقل برسد.
 - (۲) فقر فرهنگی از فقر اجتماعی و اقتصادی، آلودگی بیشتری ایجاد میکند.
 - (۳) کم کردن سر و صدا از مهمترین موارد تنظیم محیط زیست است.
 - (۴) متخصصان محیط زیست به مهمترین آلودگی، کمترین توجه را دارند.
- * در یک برد کنترلی ۱۰ لامپ در یک ردیف قرار دارند. لامپ ها از ۱ تا ۱۰ به ترتیب از چپ به راست شماره گذاری شده اند. هر لامپ یا روشن است یا خاموش. همچنین قوانین زیر بر آنها حاکم است:
- هیچ دو لامپی با شماره های متوالی، با هم روشن نیستند.
 - هیچ سه لامپی با شماره های متوالی با هم خاموش نیستند.
 - دقیقا چهار لامپ از ۱۰ لامپ روشن است.
 - لامپ ۳ خاموش است

۶۴- کدامیک از حالت های زیر میتواند یکی از حالات معتبر برای لامپ های ۱ تا باشد؟

- (۱) off , off , off , on , off , on , off , on , off , on
- (۲) on , off , off , on , off , off , on , off , on , off
- (۳) off , on , off , on , off , on , off , on , off , on
- (۴) off , off , on , off , on , off , on , off , on , off

۶۵- اگر لامپ چهار خاموش باشد، کدامیک از عبارات زیر درست است؟

- (۱) لامپ ۱ روشن است
- (۲) لامپ ۲ خاموش است

(۳) لامپ ۵ خاموش است

(۴) لامپ ۶ خاموش است

۶۶- اگر لامپ ۹ و ۱۰ خاموش باشند، کدامیک از عبارات زیر حتما درست است؟

(۱) لامپ ۱ روشن است

(۲) لامپ ۲ خاموش است

(۳) لامپ ۴ روشن است

(۴) لامپ ۵ روشن است

۶۷- اگر لامپ ۶ روشن و لامپ ۸ خاموش باشد، برای چه تعداد از لامپ ها وضعیت روشن یا خاموش بودن آنها را میتوان

مشخص کرد؟

(۱) ۵

(۲) ۶

(۳) ۷

(۴) ۸

۶۸- در بحث متدولوژی علم، توجه خاص باید

(۱) به مسئله‌ی اندازه گیری که طبیعتاً با اعداد سر و کار دارد توجه شود

(۲) به مسئله‌ی اندازه گیری معطوف شود که به طور طبیعی با اعداد سر و کار دارد

(۳) به اندازه وسایل مربوطه به آن معطوف شود که طبیعتاً با اعداد سر و کار پیدا میکند

(۴) به اعداد معطوف شود که در اندازه گیری طبیعتاً مصداق پیدا میکند.

۶۹- یک شرکت خودرو سازی، قیمت مدل خاصی از خودرو های خود را به میزان ۲۰ درصد کاهش میدهد. در پایان ماه تعداد

فروش این مدل خاص ۵۰ درصد افزایش یافته است، در آمد حاصل از فروش در این ماه چند درصد افزایش داشته است؟

(۱) ۱۰ درصد

(۲) ۱۵ درصد

(۳) ۲۰ درصد

(۴) ۲۵ درصد

۷۰- «تعداد روزنامه های فروش رفته در شهر آلفا بیشتر از شهر بتا است در نتیجه، شهروندان شهر آلفا نسبت به شهروندان

شهر بتا بیشتر در جریان رویداد های مهم هستند». کدام گزینه کمتر از سایر گزینه ها نتیجه گیری بالا را تضعیف میکند؟

(۱) شهر آلفا نسبت به شهر بتا جمعیت بیشتری دارد.

(۲) اکثر شهروندان شهر بتا در شهر آلفا کار میکنند و روزنامه های خود را از آنجا خریداری میکنند.

(۳) قیمت متوسط روزنامه های فروخته شده در شهر آلفا کمتر از قیمت متوسط روزنامه های شهر بتاست

(۴) یک شهروند متوسط شهر آلفا نسبت به یک شهروند متوسط شهر بتا زمان کمتری را صرف خواندن روزنامه میکند.

$$\begin{array}{r} A \ B \ C \ D \\ + \ E \ C \ B \\ \hline \end{array}$$

۷۱- در جمع آورده شده، حرف های متمایز رقم های مختلف هستند. مقدار $C - D + E$ کدام است؟

(۱) ۱

(۲) ۴

(۳) ۵

(۴) ۶

۷۲- قیمت ۵ دفتر، ۳ مداد و ۲ مداد پاک کن روی هم ۵۷۰ هزار تومان شده است. اگر قیمت مداد یک سوم قیمت دفتر و

قیمت مداد پاک کن نصف قیمت مداد باشد، قیمت هر دفتر چقدر است؟

(۱) ۸۰ هزار تومان

(۲) ۱۲۰ هزار تومان

(۳) ۹۰ هزار تومان

(۴) ۶۰ هزار تومان

زبان انگلیسی

73- Motors pass so that we often don't see them.

- 1) carefully 2) quickly 3) secretly 4) clearly

74- It is possible for a microscope..... one or more lenses.

- 1) to have 2) have 3) that has 4) has

75- The proved her theory that the chemical was harmless to plants.

- 1) explanation 2) experiments 3) exception 4) exhibition

76- If she hadn't lost her ticket, she..... so upset now.

- 1) won't be 2) wasn't 3) hadn't been 4) wouldn't be

77- The bookstore has a wide..... of books, fiction and non-fiction.

- 1) portion 2) chain 3) choice 4) range

78- Deep freezing is a common way of fruit and vegetables.

- 1) preserving 2) defending 3) producing 4) growing

79- How much coffee did you get? "I didn't get coffee".

- 1) no 2) few 3) some 4) any

80- My computer..... be old, but it still works really well.

- 1) can 2) could 3) may 4) would

81- Cars were parked on side of the street.

- 1) all 2) both 3) each 4) every

82- I'm a swimmer as my sister.

- 1) better 2) as good 3) not as good 4) so good

Read the following passage carefully and answer the questions that follow:

The Three phases of the human memory are the sensory memory, the short-term memory, and long-term memory. This division of the memory into phases is based on the length of time of the memory. Sensory memory is instantaneous memory. It is an image or memory that enters your mind only for a short period of time; it comes and goes in under a second. The memory will not last longer than that unless the information enters the short-term memory.

Information can be held in the short-term memory for about twenty seconds or as long as you are actively using it. If you repeat a fact to yourself, that fact will stay in your short-term memory as long as you keep

repeating it. Once you stop repeating it, either it is forgotten or it moves into long term memory. Long-term memory is the huge memory tank that can hold ideas and images for years and years. Information can be added to your long-time memory when you actively try to put it there through memorization or when an idea or image enters your mind on its own.

83- The best title for this passage would be

- 1) The difference between sensory and short-term memory
- 2) how long it takes to memorize
- 3) the stages of Human memory
- 4) Human phases

84- According to the passage which type of memory is the shortest?

- 1) sensory memory
- 2) active memory
- 3) short-term memory
- 4) long-term memory

85- According to the passage, when will information stay in your short term memory?

- 1) For as long as twenty minutes
- 2) As long as it is used
- 3) After you have repeated it many times
- 4) When it has moved into long-term memory

86- All of the following are true about long-term memory EXCEPT that

- 1) it has a very large capacity
- 2) it can hold information for a long time
- 3) it is possible to put information into it through memorization
- 4) memorization is the only way that information can get there

فناوری اطلاعات

۸۷- کدام گزینه زیر، آخرین سایت های بازدید شده در مرورگر را به ما نشان می دهد؟

- Forward (۴) Refresh (۳) History (۲) Favorites (۱)

۸۸- در نرم افزار پاورپوینت کدام گزینه برای مرور اسلایدها و یادداشت گذاری روی آنها استفاده می شود؟

- notes page (۴) slide sorter (۳) Outline view (۲) Normal (۱)

۸۹- کدام یک از توابع زیر در نرم افزار اکسل، مربوط به شمارش سلول های عددی در محدوده انتخاب شده است؟

count (۱) counta (۲) countblank (۳) countif (۴)

۹۰- در ساختار یک آدرس پست الکترونیک، قبل از علامت @ چه بخشی قرار دارد؟

(۱) آدرس شرکت سرویس دهنده پست الکترونیک

(۲) WWW

(۳) نام اختصاصی انتخاب شده توسط کاربر

(۴) Com

۹۱- کدام یک از ترکیب کلیدهای زیر، اولین کلمه بعد از مکان نما را در نرم افزار ورد پاک میکند؟

(۱) Ctrl+Shift+Del (۲) Ctrl+Shift+BackSpace

(۳) Ctrl+Del (۴) Ctrl +BackSpace

۹۲- ترکیب کلیدهای Ctrl+y یا Redo چه عملی را در نرم افزار ورد انجام میدهد؟

(۱) بازگرداندن آخرین عملیات لغو شده (۲) لغو آخرین عملیات انجام شده

(۳) Paste کردن اطلاعات کپی گرفته شده (۴) کپی گرفتن از بخش انتخاب شده متن

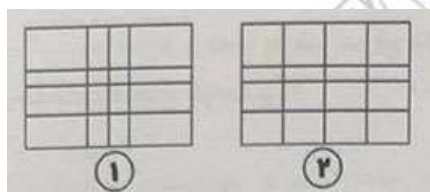
۹۳- اگر در نرم افزار ورد بخواهیم دو بخش یک جدول را از هم جدا کرده و دو جدول مجزا از آن درست کنیم، از کدام گزینه

زیر استفاده میشود؟

(۱) Split Table (۲) Merge Cells (۳) Split Cells (۴) insert below

۹۴- وقتی جدولی مانند شکل شماره ۱ در نرم افزار ورد رسم کرده ایم با کدام یک از گزینه های زیر این جدول به صورت جدول

شماره ۲ تغییر خواهد کرد؟



(۱) Auto Fit

(۲) Row Height

(۳) distribute columns

(۴) Fixed column Width

۹۵- در نرم افزار اکسل چند سلولی که کنار هم نیستند را باهم انتخاب کنیم، از کدام روش نمی توان استفاده کرد؟

(۱) پایین نگه داشتن دکمه Shift و سپس انتخاب سلول ها

(۲) انتخاب سلول اول و سپس فشردن دکمه های Shift+F8 و در انتها انتخاب دیگر سلول ها

(۳) پایین نگه داشتن دکمه Ctrl و سپس انتخاب سلول ها

(۴) نوشتن آدرس تمام سلول های مورد نظر در کادر نام و جدا کردن آنها با کاراکتر کاما

۹۶- بخش freeze Pans در نرم افزار اکسل چه کاری را انجام میدهد؟

(۱) ثابت نگه داشتن طول یا عرض ستون ها یا ردیف های انتخاب شده

۲) ثابت نگه داشتن محتویات ستون ها یا ردیف های انتخاب شده

۳) ثابت نگه داشتن نمایش ستون ها یا ردیف های انتخاب شده با پیمایش طولی و عرضی در فایل اکسل

۴) ثابت نگه داشتن نوع اطلاعات ثبت شده در سلول

۹۷- اگر بخواهیم در نرم افزار اکسل، در یک سلول پس از ثبت بخشی از اطلاعات، به ابتدای سطر بعد رفته و همچنان در

همان سلول اطلاعات جدید را درج کنیم، از چه کلیدهایی به جای Enter استفاده میکنیم؟

۱) Alt+Enter ۲) Shift+Enter ۳) Tab+Enter ۴) امکان پذیر نمی باشد.

۹۸- در نرم افزار اکسل فرمول روبرو چه عملی را انجام میدهد؟

Sum (A1, C5)

۱) مجموع دو سلول A1 و C5

۲) میانگین دو سلول A1 و C5

۳) مجموع سلولهای موجود بین دو سلول A1 و C5

۴) مجموع سلول های موجود بین دو سلول A1 و C5

۹۹- کلیدهای ترکیبی Ctrl+M در پاورپوینت چه عملی را انجام میدهد؟

۱) ایجاد اسلاید جدید ۲) کپی ساختن از اسلاید انتخاب شده

۳) ایجاد یک سند جدید پاورپوینت ۴) شروع نمایش اسلایدهای پاورپوینت

۱۰۰- اگر در نرم افزار پاورپوینت، روی یک اسلاید با دکمه راست ماوس کلیک کنیم، کدام گزینه باعث عدم نمایش اسلاید

انتخاب شده در خروجی نهایی خواهد شد؟

۱) New slide ۲) Duplicate Slide ۳) Reset Slide ۴) Hide Slide